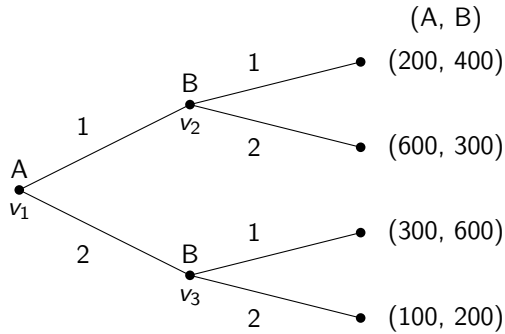
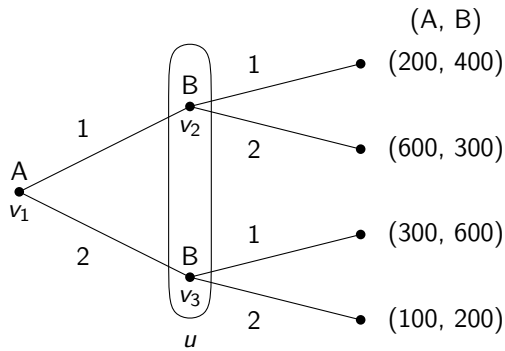


注意： 解答がどのように導かれるのかを必ず書き下すこと。

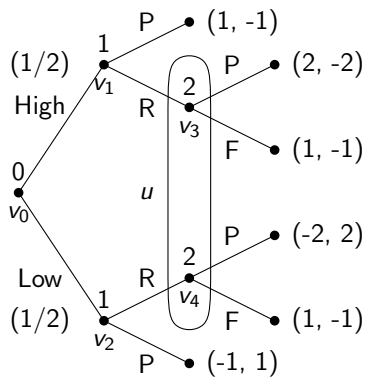
復習問題 6.1 次の表現を持つ展開形ゲームを標準化せよ。なお、プレイヤー集合は $N = \{A, B\}$ である。



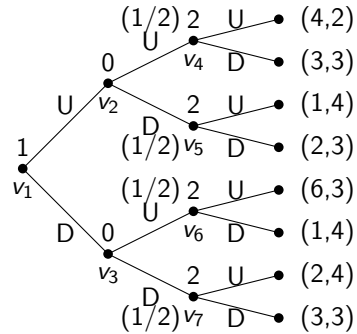
復習問題 6.2 次の表現を持つ展開形ゲームを標準化せよ。なお、プレイヤー集合は $N = \{A, B\}$ である。



復習問題 6.3 次の表現を持つ展開形ゲームを標準化せよ。なお、プレイヤー集合は $N = \{1, 2\}$ である。



復習問題 6.4 後ろ向き帰納法により、次の表現を持つ完全情報ゲームの純粋ナッシュ均衡を1つ発見せよ。なお、プレイヤー集合は $N = \{1, 2\}$ である。



追加問題 6.5 後ろ向き帰納法により、次の表現を持つ完全情報ゲームの純粋ナッシュ均衡を1つ発見せよ。なお、プレイヤー集合は $N = \{1, 2\}$ である。

